


Y



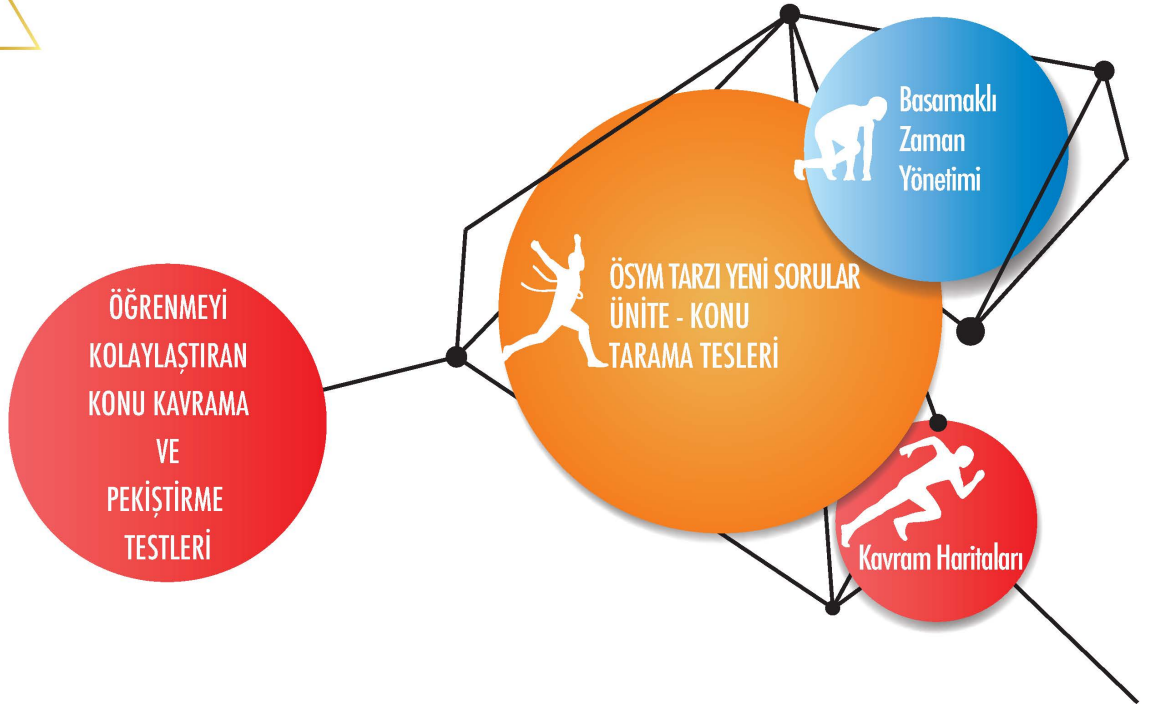
TARİH

SORU BANKASI

► Funda OĞUZ

K

S



Hız Renk Uzaktan Eğitim
ile Başarına Renk Kat



BU KİTAPTA NELER VAR?

1

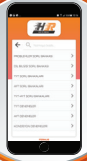


www.lisedestek.com adresinden Hız ve Renk Soru bankaları ile Denemelerinin Örnek PDF'lerine, Akıllı tahta uygulamalarına ve diğer içeriklerine ulaşabilirsiniz.

You
Tube

Hız ve Renk Uzaktan Eğitim Kanalı'nda konu anlatımı ve daha fazlasını bulacaksınız.

2



Hız ve Renk uygulamasından ya da Hız ve Renk yayınları web sayfasından soru çözüm videolarını Hız ve Renk yazarlarından dinleyebilirsiniz.



3

Konu Kavram, Konu Pekiştirme, ÖSYM Tarzı ve Hızlı Taramalardan oluşan toplam **85 TEST, 1098 SORU** başarınıza renk katacak.

4



Konu özetli, pratik kavram haritaları ile bilgilerinizi canlı tutabilirsiniz.

5

**ÜNİVERSİTE HAZIRLIK
TARİH
SORU BANKASI**

ISBN

ISBN: 978-605-7530-89-9
0106 - 1 - 21

Genel Yayın Koordinatörü

Harun DERİN

Yazar

Funda OĞUZ

Editör

Nuri SOYUDURU

Dizgi

HIZ VE RENK Dizgi Birimi

İLETİŞİM

HIZ VE RENK YAYINLARI
Ostim Mahallesi 1207. Sokak No:3/C-D
Ostim/Ankara
Tel: 0312 395 13 36

Copyright © Bu kitabın her hakkı saklıdır.

Hangi amaçla olursa olsun,
bu kitabın tamamının ya da bir kısmının,
kitabı yayımlayan yayınevinin önceden
izni olmaksızın elektronik, mekanik, fotokopi
ya da herhangi bir kayıt sistemi ile çoğaltıl-
ması, yayımlanması ve depolanması yasaktır.

Sunuş

DEĞERLİ ÜNİVERSİTE ADAYLARI,

Üniversiteye giriş sınavları uzun, yorucu ve sabır isteyen bir yolculuktur. HIZ VE RENK YAYINCILIK olarak bu uzun yolculukta sizlerin destekçisi ve rehberi olmayı bir görev bilmekteyiz. Bu anlayışla hazırladığımız soru bankalarımızla üniversite sınavlarına hazırlık aşamasında başarınızı daha yukarılara taşımak ve istediğiniz üniversitelere sizleri ulaştırabilmek temel hedefimizdir.

HIZ VE RENK soru bankaları konu kavratma, pekiştirme ve ÖSYM soru tiplerine adapte olabilme anlayışı ile oluşturulmuştur. Ayrıca “Basamaklı Zaman Yönetimi”ne göre kurgulanan testler zaman yönetimi konusunda da sizlere önemli bir kazanım sağlayacaktır. Kitabın sonunda, sorularda kullanılan kavramları içeren bir sözlüğe ve kavram haritalarına yer verilmiştir.

Kitabımızdaki “**MAVİ TESTLER**”, ilgili konunun en üst düzeyde kavranmasını amaçlamaktadır. Her ünitenin başında bulunan bu testleri dikkatle çözmek ve bu testlerde kaçırduğunuz sorulardan hareketle eksiklerinizi tespit ederek konu tekrarı yapmanız, konuyu daha iyi kavramanızı sağlayacaktır.

“**KIRMIZI TESTLER**”, konunun pekiştirilmesinde ve öğrenilenlerin kalıcı olmasında önemli rol üstlenmektedir. Bu testler sayesinde bilgileriniz daha da sağlamlaşacaktır.

“**TURUNCU TESTLER**”, ÖSYM sorularına uyum sağlamanızda size rehber olacak testlerdir. Üniversite sınav soruları paralelinde, özgün sorulardan oluşan bu testler ile sınav sorularını daha kolay analiz edebilecek ve üniversite sınavlarına gerçek anlamda hazır olacaksınız.

“**HIZLI TARAMA TESTLERİ**”, önceki ünite ve konuyu kapsayan sorulardan oluşan testlerdir. Bu testler ünitenin/konunun unutulmasını önlemek amacıyla oluşturulmuş testlerdir. Bu testlerde yanlış cevapladığınız soruların konularını tekrar etmenizi öneririz.

Titiz bir çalışmanın ürünü olan TARİH SORU BANKAMIZ, MEB'in müfredat programıyla ve ÖSYM'nin soru tarzlarıyla bire bir uyumludur. Kitabın hazırlanmasında büyük emekleri geçen yazarımız Sayın Funda OĞUZ'a; editörümüz Nuri SOYUDURU'ya; dizgi ve tasarım uzmanımız Raşit SAVAŞ'a teşekkür ederiz.

Başarılarınıza renk ve hız katabilmek dileğiyle...

HIZ VE RENK YAYINLARI

İçindekiler

	Sayfa		Sayfa
1. ÜNİTE		13. ÜNİTE	
Konu Kavram Haritaları	5	Konu Kavram Haritaları	119
Tarih ve Zaman / İnsanlığın İlk Dönemleri.....	7	XX. Yüzyıl Başlarında Osmanlı Devleti ve Dünya ...	121
2. ÜNİTE		14. ÜNİTE	
İlk Çağ Uygarlıkları/ Orta Çağ'da Dünya	15	Konu Kavram Haritaları	131
3. ÜNİTE		Millî Mücadele'nin Hazırlık Dönemi	133
Konu Kavram Haritaları	23	15. ÜNİTE	
İlk ve Orta Çağlarda Türk Dünyası	25	Büyük Millet Meclisinin Açılması/ Sevr Antlaşması	141
4. ÜNİTE		16. ÜNİTE	
İslam Medeniyetinin Doğuşu	33	Konu Kavram Haritaları	149
5. ÜNİTE		Millî Mücadele'nin Muharebeler Dönemi ve	
Konu Kavram Haritaları	41	Lozan Antlaşması	151
İlk Türk-İslam Devletleri / Yerleşme ve Devletleşme		17. ÜNİTE	
Sürecinde Selçuklu Türkiyesi	43	Konu Kavram Haritaları	159
HIZLI TARAMA TESTİ 1	51	Atatürkçülük ve Türk İnkılabı	161
6. ÜNİTE		HIZLI TARAMA TESTİ 3	177
Konu Kavram Haritaları	55	18. ÜNİTE	
Beylikten Devlete Osmanlı Siyaseti (1302-1453)	57	İki Savaş Arası Dönemde Türkiye ve Dünya	181
7. ÜNİTE		19. ÜNİTE	
Dünya Gücü Osmanlı (1453-1595).....	65	Konu Kavram Haritaları	191
8. ÜNİTE		II. Dünya Savaşı Sürecinde Türkiye ve Dünya	193
Osmanlı Kültür ve Uygarlığı.....	73	20. ÜNİTE	
9. ÜNİTE		II. Dünya Savaşı Sonrasında Türkiye ve Dünya.....	197
Konu Kavram Haritaları	81	21. ÜNİTE	
XVII. Yüzyılda Osmanlı İmparatorluğu	83	Konu Kavram Haritaları	201
10. ÜNİTE		Toplumsal Devrim Çağında Dünya ve Türkiye	203
XVIII. Yüzyılda Osmanlı İmparatorluğu	91	22. ÜNİTE	
11. ÜNİTE		21. Yüzyılın Eşiğinde Türkiye ve Dünya	207
Konu Kavram Haritaları	99	HIZLI TARAMA TESTİ 4	211
Yeni Çağ ve Yakın Çağ'da Avrupa'daki Gelişmeler..	101	KAVRAM SÖZLÜĞÜ	215
HIZLI TARAMA TESTİ 2	105	CEVAP ANAHTARI	221
12. ÜNİTE			
XIX. Yüzyılda Osmanlı İmparatorluğu	109		

**ESKİ YUNAN
UYGARLIĞI**
(MÖ. 1200-MÖ. 337)

İRAN UYGARLIĞI
(MÖ. 1200 - MÖ. 337)

- ◆ Persler
(MÖ.550 - MÖ.330)
- ◆ Medler
(MÖ.856 - MÖ.549)

MISIR UYGARLIĞI
(MÖ. 3000-MÖ. 525)

ROMA UYGARLIĞI
(MÖ. 753-MS. 395)

**MEZOPOTAMYA
UYGARLIKLARI**

- ◆ Sümerler
(MÖ.4000 - MÖ.2350)
- ◆ Akadlar
(MÖ.4000/2350 - MÖ.2100)
- ◆ Elamlar
(MÖ.3000 - MÖ.640)
- ◆ Babiller
(MÖ.2100 - MÖ.539)
- ◆ Asurlar
(MÖ.2000 - MÖ.609)

İLK ÇAĞ UYGARLIKLARI

**ANADOLU
UYGARLIKLARI**

- ◆ Hititler
(MÖ. 1700 - MÖ.700)
- ◆ Frigler
(MÖ. 800 - MÖ 676)
- ◆ Lidyalılar
(MÖ. 687 - MÖ.546)
- ◆ Urartular
(MÖ. 900 - MÖ.600)
- ◆ İyonyalılar
(MÖ. XII. yüzyıl - MÖ. VII. yüzyıl)

HELLEN UYGARLIĞI
(MÖ.359 - MÖ.323)

**DOĞU AKDENİZ
UYGARLIĞI**

- ◆ Fenike
(MÖ.1000 - MÖ.520)
- ◆ İbrani

EGE UYGARLIĞI

- ◆ Girit
(MÖ.3500 - MÖ.1200)
- ◆ Miken (Aka)
(MÖ.2000 - MS.1200)

**ORTA ASYA TÜRK
UYGARLIĞI**



1.



Verilen görsellerden hangilerinin bir tarihçi için daha güvenilir kaynak grubunda yer aldığı söylenebilir?

- A) Yalnız I B) Yalnız II C) Yalnız III
D) I ve II E) I, II ve III

2. Türk tarihinde "Türk" adı ilk kez Orhun Kitabeleri'nde geçmiştir. Bu kitabeler hakkında ilk bilgiler XIII. yüzyılda yaşayan Cuveyni'nin *Tarih-i Cihangüşa* isimli eserinde yer alır."

Verilen metinde tarih bilimine;

- I. arkeoloji,
II. epigrafya,
III. paleografya

bilim dallarından hangilerinin yardımcı olduğu söylenebilir?

- A) Yalnız I B) Yalnız II C) Yalnız III
D) I ve II E) I, II ve III

3. Diyarbakır yakınlarında bulunan Çayönü yerleşim yerine ait kazılarda bulunan kolyelerde çeşitli renklerde taş boncuklarla deniz kabuklarının kullanıldığı görülmüştür.

Buna göre,

- I. Topluluklar arasında ticaret yapılmıştır.
II. Farklı uygarlıklarla temas kurulmuştur.
III. Anadolu ilk uygarlıkların merkezidir.

yargılarından hangilerine ulaşılabilir?

- A) Yalnız I B) Yalnız II C) Yalnız III
D) I ve II E) I, II ve III

4. I. Değirmen taşları
II. Tahıl ambarları
III. Saban, orak parçaları
IV. Sulama kanalları

Yukarıdakilerden hangileri bir bölgede tarımın yapıldığını kesin olarak kanıtlar?

- A) I ve II B) II ve IV C) III ve IV
D) I, II ve III E) II, III ve IV

5. Coğrafyanın toplumlar üzerindeki uzun süreli etkisi, milletleri medeniyet yolunda değişik yollardan ilerletmiştir.

Bu görüşü dile getiren bir tarihçinin;

- I. bozkır ikliminde yaşayan insanların savaşçı özelliklerinin gelişmesi,
II. Anadolu'da farklı ev yapım malzemelerinin kullanılması,
III. göçebe toplumların kültürel etkileşime kapalı olması

yargılarından hangilerini savunduğu söylenebilir?

- A) Yalnız I B) Yalnız II C) Yalnız III
D) I ve II E) I, II ve III

6. Tarih biliminin;

- I. Deney ve gözlem yapılamaz.
II. Tarihsel olaylar tekrarlanamaz.
III. Kural ve formül konulamaz.

özelliklerinden hangisi pozitif bilimlerden farklı olduğunu kanıtlamaktadır?

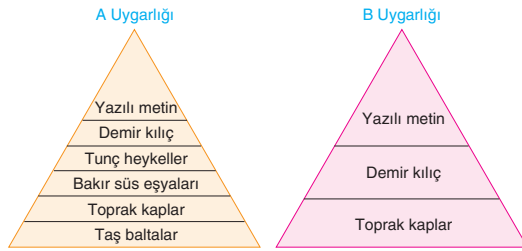
- A) Yalnız I B) Yalnız II C) Yalnız III
D) I ve II E) I, II ve III

7. Büyük dedesinin mezarını ziyaret eden Arda mezar taşında gördüğü Hicri 1292 yılını görünce şaşırılmış ve büyük dedesinin yaşı ile ilgili hesap yapamamıştır.

Arda'nın bu hesaplamayı yapmak için aşağıdakilerden hangisini bilmesi gerekir?

- A) Takvim türlerinin nasıl ortaya çıktığını
B) Ay yılı ile güneş yılı arasındaki zaman farkını
C) Miladi takvimin Türkiye Cumhuriyeti'nde ne zaman kabul edildiğini
D) Takvimlerin başlangıç yıllarını
E) Türklerin tarih boyunca hangi takvimleri kullandıklarını
8. Aşağıdakilerden hangisi Maden Devri'ne ait özellikler arasında yer almaz?
- A) Bakır ve kalayın karıştırılması ile tunç elde edilmiştir.
B) Bakır ilk kullanılan maden olmuştur.
C) Tunç Devri'nde ilk kez siyasi örgütlenme başlamıştır.
D) Bakırın bulunmasıyla silahlar daha dayanıklı hâle gelmiştir.
E) Yazı demir devrinin sonlarında bulunmuştur.

9.

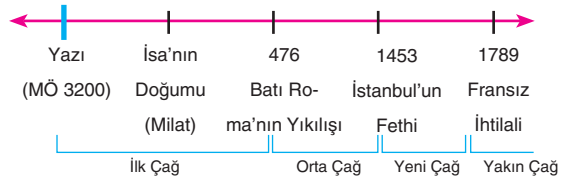


Yukarıda A ve B uygarlıklarında toprağın en alt katmanından başlanarak en üste doğru sırasıyla yaşanan tarihsel gelişim aşamaları verilmiştir.

Buna göre A ve B uygarlıkları ile ilgili aşağıdaki yargılardan hangisi söylenemez?

- A) A uygarlığının gelişimi tarihsel sürece uygundur.
B) A uygarlığında tarihî devirler başlamıştır.
C) B uygarlığı özgün bir yapıya sahiptir.
D) A uygarlığında seramik sanatı görülür.
E) B uygarlığı başka bir toplumdan etkilenmiştir.

10.



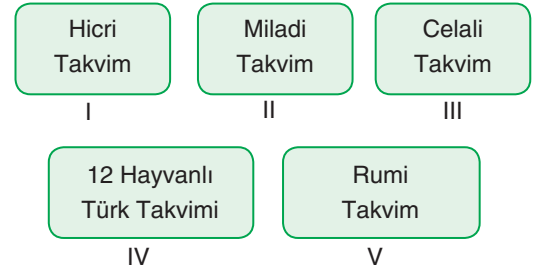
Yukarıdaki tarih şeridi incelendiğinde;

- I. Orta Çağ, Yeni Çağ'dan daha uzun sürmüştür.
II. Yazı, milattan önce icat edilmiştir.
III. İsa'nın doğumu evrensel bir olaydır.

yargılarından hangilerine ulaşılabılır?

- A) Yalnız I B) Yalnız II C) Yalnız III
D) I ve II E) I, II ve III

11.



Yukarıdaki takvim çeşitlerini tahtaya yazan Deniz Öğretmen, öğrencilerine, Türklerin kullandığı bu takvimlerden hangisinin Türk toplumunun dinî inancını değiştirmesiyle kullanılmaya başlandığını sormuştur.

Deniz Öğretmen'in bu sorusuna aşağıdaki öğrencilerden hangisi doğru yanıt vermiştir?

- A) Ferhat: I B) Utku: II C) Gökçe: III
D) Selen: IV E) Eser: V

12. Neolitik Çağ'da çömlekçi çarkında çamurdan vazo, çanak, çömlek yapılmış ve ateşte pişirilerek daha dayanıklı hâle getirilmiştir.

Yalnızca bu bilgi dikkate alındığında Neolitik Çağ ile ilgili;

- I. seramik sanatının işlerlik kazandığı,
II. ilkel anlamda endüstriyel üretim yapıldığı,
III. tarımsal faaliyetlerin başladığı

ifadelerinden hangilerine ulaşılabılır?

- A) Yalnız I B) Yalnız II C) Yalnız III
D) I ve II E) I, II ve III



1. İlk Çağ'da önem taşıyan uygarlıklara bakıldığında Dicle, Fırat, Nil ve Ganj gibi büyük nehirlerin çevresinin tercih edildiği görülmektedir.

Buna göre uygarlıkların bu bölgelerde kurulmasının temel nedeni aşağıdakilerden hangisidir?

- A) Yaşam koşullarının uygun olması
B) Madenler bakımından zengin olması
C) Nüfusun yoğun olması
D) Ticaret yollarının başlangıcında bulunması
E) İstila tehditlerinden uzak olması

2. Mısır'da hiyeroglifi kullanabilen rahipler ve kâtipler ayrıcalıklı bir konumdayken köylüler üretimde, köleler ise hizmette kullanılmıştır.

Buna göre Mısır Uygarlığı ile ilgili aşağıdaki yargılardan hangisine ulaşılabilir?

- A) Tanrı-kral anlayışı hâkimdir.
B) Mumyacılık gelişmiştir.
C) Sınıflı toplum yapısı vardır.
D) Nil Nehri Mısır'ın hayat kaynağıdır.
E) Bilim ve sanat çok ilerlemiştir.

3. Aşağıdakilerden hangisi Mezopotamya'nın verimli topraklara sahip olmasının kanıtı olamaz?

- A) Dicle ve Fırat nehirleri arasında bulunması
B) Sık sık istilaya uğraması
C) Birçok kavimin bölgeye yerleşmesi
D) Bölgede uygarlıkların kurulması
E) Siyasi tarihi Sümerlerin başlatması

4. Sümer ülkesinin güneyinde bir krallık mezarlığında bulunan, mücevherlerle donanmış ölünün çevresinde de silahlı savaşçıları ve köleleri vardır.

Bu durum aşağıdakilerden hangisini kanıtlamaz?

- A) Ölümden sonraki yaşama inancının varlığını
B) Barış içinde yaşadıklarını
C) Savaşçı toplum yapısını
D) Sınıflı toplum yapısını
E) Kralların mezarlarına önem gösterildiğini

5. Dicle ve Fırat nehirleri arasında kalan bölgeye Mezopotamya denir. Mezopotamya sık sık istilaya uğramış, dışarıdan pek çok kavim bölgeye gelip yerleşmiştir.

Bu durum;

- I. bölgenin verimli topraklara sahip olması,
II. bölgenin göç yolları üzerinde bulunması,
III. temel ekonomik etkinliğin ticaret olması

ifadelerinden hangileriyle açıklanabilir?

- A) Yalnız I B) Yalnız II C) Yalnız III
D) I ve II E) I, II ve III

6. Aşağıdakilerden hangisi Mezopotamya'daki ekonomik etkinliklerle ilgili doğru bir bilgi değildir?

- A) Ekonominin temelini tarım oluşturmaktadır.
B) Toprak tanrının malı sayılıp rahipler gözetiminde işlenir.
C) Ürünün büyük kısmı mabetlere verilir.
D) Hayvancılık ve balıkçılıkta gelişmiştir.
E) Ticari ilişkiler hemen hemen hiç yoktur.



7. İlk Çağ'da İyonya'da;
- Güneş tutulması önceden hesaplanarak matematik ve astronomide ileri gidilmiştir.
 - Özgür düşüncenin varlığı felsefenin doğmasını sağlamıştır.
 - Dünya'nın yuvarlak olduğu öne sürülmüş ve Dünya'nın oluşumu tartışılmıştır.

Bu gelişmelerden hangileri bilimin çeşitli dallarıyla uğraşıldığını gösterir?

- A) Yalnız I B) Yalnız II C) Yalnız III
D) I ve II E) I, II ve III

8.



Verilen haritaya göre Hitit Uygarlığı ile ilgili;

- Anadolu'da hakimiyet kurduğu,
- Asurlularla ticaret yaptığı,
- Mısır Uygarlığı ile komşu olduğu

yargılarından hangilerine ulaşılabilir?

- A) Yalnız I B) Yalnız II C) Yalnız III
D) I ve II E) I, II ve III

9.



İlk Çağ'daki Anadolu uygarlıkları ile ilgili verilen haritaya göre aşağıdaki yargılardan hangisine varılabilir?

- Lidyalıların temel ekonomik faaliyeti ticarettir.
- Uygarlıklar genellikle su kaynaklarına yakın bölgelerde kurulmuştur.
- Frigler tarımı yasalarla koruma altına almışlardır.
- Anadolu'ya Ege göçleri ile gelen topluluklar uygarlık kurmuştur.
- Hititler merkezî krallıkla yönetilmiştir.

10. Yunanistan'da halk, geçimini zeytincilik, balıkçılık, hayvancılık gibi alanlardan sağlamaktaydı.

Buna göre Yunan Uygarlığı ile ilgili;

- tarıma elverişli topraklarının az olduğu,
- siyasi birlik oluşturamadıkları,
- diğer uygarlıklarla mücadele ettikleri

durumlarından hangileri söylenebilir?

- A) Yalnız I B) Yalnız II C) Yalnız III
D) I ve II E) I, II ve III

11. Hititlerin ve İyonların ahiret inançları zayıflamış, buna karşılık Urartularda ise ölümden sonraki yaşama inanç artmıştır.

Aşağıdakilerden hangisi Urartularla ilgili bu bilgiyi kanıtlar?

- Sulama kanalları yaparak tarımı geliştirmeleri
- Kale mimarisinde gelişmeleri
- Urartulardan günümüze birçok mimari eserin kalması
- Oda biçiminde yaptıkları mezarlarına çeşitli eşyalar koymaları
- Tapınaklar yapıp duvarlarını kabartmalarla süslemeleri

12. Homeros'un destanında doğa tanrılarına tapan Friglerden barışçı bir toplum olarak söz edilmiş ayrıca zenginlikleri de anlatılmıştır.

Buna göre Friglerin zenginliği aşağıdaki alanların hangilerindeki başarılarından kaynaklanmaktadır?

- Kervan ticareti B) Balıkçılık
- Tarım D) Deniz ticareti
- E) Madenler



1. **Cengiz Yasası**
Baba öldüğü zaman yaşça büyük olanlar fazla hisse alırlar. En küçük oğul babasının evinde kalır. Çocukların derecesi, analarının derecesiyle tayin olunur.

Cengiz Yasası'ndaki bu hükme göre Orta Çağ'daki hukuk kuralları ile ilgili,

- I. Toplumsal eşitlik sağlanamamıştır.
- II. Miras hakkında ataerkillik uygulamalar görülmüştür.
- III. Aile kurumu korunmuştur.

yargılarından hangilerine ulaşılabilir?

- A) Yalnız I B) Yalnız II C) Yalnız III
D) I ve II E) I, II ve III

2. Babil Uygarlığı'nda "Devlet gücünü dinden değil, ordudan alır." anlayışı hâkimdir ve güçlü ordular kurulmuştur.

Sadece bu bilgiye bakılarak aşağıdaki yargılardan hangisine ulaşılabilir?

- A) Hammurabi Kanunları sert hükümler içerir.
- B) Yahudileri ilk kez yurtlarından atmışlardır.
- C) Mezopotamya'daki tüm bilimsel gelişmelerin öncüsü olmuşlardır.
- D) Din devletini, dünya devletine dönüştürmüşlerdir.
- E) Dinsel inançları olmayan bir toplumdur.

3. Sümerler, önce ensi-patesi denilen rahip kralların yönettiği site şehir devletlerini kurmuş, sonra birden çok şehir devletini ele geçirenlere Lugal, tüm ülkeye egemen olanlara Lugal Kalma unvanını vermiştir.

Buna göre;

- I. Başlangıçta siyasi birlikten yoksundurlar.
- II. Siyasal mücadeleler yaşanmıştır.
- III. Teokratik egemenlik anlayışı vardır.

yargılarından hangilerine ulaşılabilir?

- A) Yalnız I B) Yalnız II C) I ve II
D) II ve III E) I, II ve III

4. Yunan şehir devletleri tanrıları adına düzenledikleri spor müsabakalarında kültürel etkileşim yaşamışlardır.

Buna göre;

- I. Siyasi birlik yoktur.
- II. Çok tanrılı inanç vardır.
- III. Devletler arası savaşlar yaşanmıştır.

yargılarından hangilerine ulaşılabilir?

- A) Yalnız I B) Yalnız II C) Yalnız III
D) I ve II E) I, II ve III

5. "Şahların Şahi" olarak anılan Sasani hükümdarı savaş yönetimine aktif olarak katılırdı. Saygın ve kutsal bir kişiliği vardı. Miras yoluyla tahta geçerdi. Yücelik, adalet, yönetme sanatı, yiğitlik, kültür gibi özelliklerin hemen tüm Sasani hükümdarlarında bulunduğu gibi hanedanın yıkılışından sonra da gelecek kuşakların hafızasında yaşayacak ve -1000 yılına doğru- Firdevsî'nin yazdığı *Şehname*'de yeniden dile getirilecektir.

Sasani hükümdarları ile ilgili bu bilgilere göre;

- I. yönetme yetkisinin ilâhi olduğu,
- II. hükümdarın birçok vasıfları olduğu,
- III. veraset anlayışının bulunduğu

yargılarından hangilerine ulaşılabilir?

- A) Yalnız I B) Yalnız II C) Yalnız III
D) I ve II E) I, II ve III

6. Anadolu'da yapılan kazılarda Kültepe'de "Karum" denilen bir pazar yeri bulunmuştur. Anadolu'da ilk yazılı belgeler de Kültepe'de bulunan ticari ve hukuki tabletler olmuştur.

Buna göre;

- I. Anadolu'nun tarih çağları Kültepe'de başlamıştır.
- II. Kültepe, devletler arası çatışma alanı hâline gelmiştir.
- III. Kültepe ticari bakımdan gelişmiştir.

yargılarından hangilerine ulaşılabilir?

- A) Yalnız I B) Yalnız II C) Yalnız III
D) I ve III E) I, II ve III



7. Hammurabi'nin bıraktığı yasalar, köleci anlayışın toplum yaşamı üzerinde bıraktığı etki ile ilgili bir fikir edinme olanağı verir. Bu yasalarda kölelik düzenine, özel mülkiyet ve insanın insan tarafından sömürülmesine yer verilmektedir.

Buna göre;

- I. sınıflı toplum yapısının var olduğu,
- II. özel mülkiyetin yasalarla korunduğu,
- III. yasaların toplumsal eşitliği sağladığı

durumlarından hangilerine ulaşılabilir?

- A) Yalnız I B) Yalnız II C) Yalnız III
D) I ve II E) I, II ve III

8. Mısır'da, Firavunlar için yapılan dev boyutlu piramitler, halk için yapılan labirent mezarlar, Mısır Uygarlığı ile ilgili aşağıdakilerden hangisini kanıtlamaz?

- A) Dinsel mimarinin geliştiğini
- B) Ölümden sonraki yaşama inandıklarını
- C) Sınıfsal ayrımların olduğunu
- D) Matematik ve geometride geliştiklerini
- E) Başka toplumlardan etkilendiklerini

9.



Gökçe Öğretmen, öğrencilerine gösterdiği bu görselle ilgili benzer ya da ilişkili kavramları bulmalarını istemiştir.

Aşağıdaki öğrencilerden hangisinin bu ilişkilendirmeyi doğru yaptığı söylenemez?

- A) Arda: Ticaret
- B) Mert: Kervansaray
- C) İnci: Tarım
- D) Berke: Han
- E) Sinan: Ulaşım

10. Büyük İskender kurduğu imparatorluğun yönetiminde Perslerden etkilenmiş, satraplık idaresini benimsemiştir. İskender'in uyguladığı yönetim sistemi de Roma İmparatorluğu'na örnek olmuştur. Roma İmparatorluğu satraplık idaresinde değişiklikler yaparak geliştirmiş ve eyalet sistemini uygulamıştır.

Buna göre aşağıdaki yargılardan hangisine ulaşılabilir?

- A) Roma özgün uygarlıktır.
- B) Pers İmparatorluğu Büyük İskender tarafından yıkılmıştır.
- C) Eyalet sisteminin yaratıcısı İskender'dir.
- D) Doğu-Batı uygarlıkları arasında etkileşim vardır.
- E) Roma İmparatorluğu'nda yönetme yetkisi kutsaldır.

11. Sümerler, Mezopotamya'ya geldikleri zaman bataklıkları kurutup sur ve hendeklerle çevirerek şehirler kurmuşlardır. Her şehir de devlet özelliği kazanmıştır.

Buna göre;

- I. siyasi birliklerinin olmadığı,
- II. savunma ihtiyacı olduğu,
- III. temel geçim kaynaklarının kervan ticareti olduğu

durumlarından hangilerine ulaşılabilir?

- A) Yalnız I B) Yalnız II C) Yalnız III
D) I ve II E) I, II ve III

12.



Verilen görselden yararlanarak İlk Çağ ile ilgili,

- I. Anadolu ile Mezopotamya arasında ticari ve kültürel ilişki kurulmuştur.
- II. Kral Yolu'nu Lidyalılar yapmıştır.
- III. En gelişmiş ticari güzergâh Kral Yolu'dur.

yargılarından hangilerine ulaşılabilir?

- A) Yalnız I B) Yalnız II C) Yalnız III
D) I ve II E) I, II ve III



1.



Verilen görselleri inceleyen Arda'nın tarih biliminin aşağıdaki konularından hangisi ile ilgili bir fotoğrafa ulaşması beklenemez?

- A) Eser B) Askerî C) Ekonomik
D) Siyasal E) Sosyal

2.



İlk Türkçe özel gazete olan Tercüman-ı Ahval 1860 - 1866 yılları arasında, önce sadece pazar günleri sonra haftada üç ve beş gün yayımlanmıştır.

Yukarıdaki araştırmayı yapan tarihinin;

- I. kronoloji,
II. paleografya,
III. nümizmatik

bilim dallarından hangilerinden yararlandığı söylenebilir?

- A) Yalnız I B) Yalnız II C) Yalnız III
D) I ve II E) I, II ve III

3. Neolitik Dönem'de havaların ısınması ile insanlar, mağara ve kaya sığınaklarından çıkarak ovalara ve su kenarlarına inmişlerdir. Toprağı işlemeye başlayarak tarımsal üretime geçmişler, köyler kurmuşlardır.

Buna göre, tarih öncesi devirlerle ilgili aşağıdakilerden hangisine ulaşamaz?

- A) Yerleşik yaşam başlamıştır.
B) Ticaret görülmüştür.
C) Üretici toplum yapısı bulunmaktadır.
D) Coğrafi koşulların değişimi yaşam biçimine yansımıştır.
E) Ekonomik faaliyetleri değiştirmiştir.

4. İlk Çağ'da Yunan Uygarlığı'nda dinî törenlerde ve bayramlarda tanrılar adına ilahi okunur, müzik eşliğinde danslar yapılır, spor yarışmaları düzenlenirdi. Bu bayramların en önemlisi Yunan kent devletlerinden gelen sporcuların katılımıyla Olimpiya Dağı'nda yapılan olimpiyatlardır.

Buna göre Yunan Uygarlığı ile ilgili;

- I. Olimpiyat Oyunları ile dinî inanış arasında ilişki vardır.
II. Olimpiyatlar kültürel birlik sağlamıştır.
III. Deniz ticareti ile uğraşmıştır.

yargılarından hangilerine ulaşılabilir?

- A) Yalnız I B) Yalnız II C) Yalnız III
D) I ve II E) I, II ve III

5. Durum 1: Frig kanunlarına göre, öküz kesenin ya da saban kıranın cezası ölümdür.

Durum 2: Frigler ilk hayvan hikayelerinin (fabl) yaratıcılarıdır.

Durum 3: Yapılan kazılarda üzerinde hayvan figürleri olan Friglere ait çanak ve çömlekler bulunmuştur.

Verilen üç durum beraber değerlendirildiğinde aşağıdakilerden hangisine ulaşılabilir?

- A) Frigler, çiftçilik ve hayvancılıkla uğraşmışlardır.
B) Anadolu'nun en gelişmiş uygarlığı Frigler'dir.
C) Frigler, farklı uygarlıklarla ticaret yapmıştır.
D) Frigler, Sakarya Irmağı çevresinde kurulmuştur.
E) Frig kanunları sert hükümler içerir.



6. Türkler tarih boyunca farklı sebeplerle ana yurtları olan Orta Asya'dan değişik bölgelere göç etmiştir. Boylar arasında yaşanan mücadeleler, Çin ve Moğol baskınları Türkleri bu göçlere iten nedenler arasındadır.

Buna göre, Orta Asya Türk göçlerinin aşağıdaki alanlardan hangisiyle ilgili olduğu söylenebilir?

- A) Siyasi B) Ekonomik C) Sosyal
D) Kültürel E) Coğrafi

7. "Ben Bumin Kağan I. Kök Türk Devleti'nin kurucusuyum. Biz Kök Türkler Avar egemenliğinde onlara silah yaparak varlığımızı sürdürüyorduk. Gün geldi. Avar hakanı ülke içinde isyanlarla karşılaştı. Töles İsyanı'nı bastıramayan Avar hakanı benden yardım istedi. Emrimdeki kuvvetlerle Töles İsyanı'nı bastırdım..."

Bumin Kağan'ın söyledikleriyle ilgili olarak;

- I. Türk boyları arasında dayanışma vardır.
II. Avar hakanlığında merkezî otorite güçlüdür.
III. Kök Türkler Avarlara karşı ayaklanmıştır.

yargılarından hangilerine ulaşılabilir?

- A) Yalnız I B) Yalnız II C) I ve II
D) II ve III E) I, II ve III

8. "Türklerin almadığı memleket içmediği su kalmadı. Şehirleri ve ülkeleri doldurup her tarafa hâkim oldular."

İmameddin İsfahani

İmameddin İsfahani'nin bu sözü Türklerle ilgili aşağıdakilerden hangisini doğrular?

- A) Temel ekonomik faaliyetleri hayvancılıktır.
B) Boylar halinde yaşamışlardır.
C) Dünyanın birçok bölgesine yayılarak hakimiyet kurmuşlardır.
D) Çin'i baskı altına almışlardır.
E) Düzenli ordu kurmuşlardır.

9. VII. yy. ın başlarında Karadeniz'in Kuzeyi ve Kafkaslar bölgesinde bir hakanlık olarak kurulan Hazarlar, Bizans, Sasani ve Müslüman Araplarla siyasi, askerî ve ticari ilişkide bulunmuştur. Bizans-Sasani savaşlarında Bizans'ı destekleyerek Sasanilerin zayıflamasında rol oynamıştır.

Buna göre Hazarlarla ilgili;

- I. Dış politikada denge politikası uygulanmıştır.
II. Merkezî otorite güçlüdür.
III. İpek Yolu ticaretinde söz sahibidir.

bilgilerinden hangilerine ulaşılabilir?

- A) Yalnız I B) Yalnız II C) Yalnız III
D) I ve II E) I, II ve III

10.



Yukarıdaki haritayı inceleyen Emre, İslamiyet öncesinde Araplarla ilgili çıkarımlarda bulunmuştur.

Haritaya göre Emre'nin Araplarla ilgili yaptığı aşağıdaki çıkarımlardan hangisi doğrudur?

- A) Kabileler arası kan davası bulunmaktadır.
B) Arap Yarımadası'nda siyasi birlik yoktur.
C) Arapların temel ekonomik faaliyeti ticarettir.
D) Putperestlik yaygın inançtır.
E) Arap Yarımadası'nda Yahudiler de yaşamaktadır.



1. Ahlak ile zanaatı birleştirmiş bir meslek örgütü olan Ahiler, Osman Bey'in manevi destekleyicisi oldular. Osman Bey bir bölgeyi ele geçirdikten sonra burada nasıl bir yönetim uygulanacağını Ahilerden sormaktaydı. Ahiler; beyliği teşkilatlandırma, sosyal hayatı düzenleme beylere danışmanlık yapma gibi önemli görevleri üstlenmişlerdir.

Buna göre Ahilerle ilgili aşağıdakilerden hangisine ulaşılamaz?

- A) Osmanlıyı kuruluş yıllarında desteklemişlerdir.
B) Yönetim konusunda beylere danışmanlık yapmışlardır.
C) Anadolu'da İslamiyet'in yayılmasını sağlamışlardır.
D) Teşkilatlanma ve mesleki alanlarda Osmanlıdan daha deneyimlidir.
E) Sosyal hayatı belirleyici güç olmuşlardır.

2. Orhan Bey Dönemi'nde;

- I. Divan teşkilatının kurulması
II. Yaya ve müselleme adıyla ilk düzenli ordunun kurulması
III. İznik'te ilk medresenin açılması

gelişmelerinin eğitim, askerî ve siyasi ilişkisi aşağıdakilerin hangisinde doğru eşleştirilmiştir?

	Eğitim	Askerî	Siyasi
A)	II	III	I
B)	III	II	I
C)	I	II	III
D)	III	I	II
E)	II	I	III

3. Osmanlı Devleti Kuruluş Dönemi'nde Haçlılarla yaptığı mücadeleler sonrasında Balkanlara kesin olarak yerleşmiştir.

Osmanlı Devleti'nin Balkanlardan atılamayacağını ortaya koyan savaş aşağıdakilerden hangisidir?

- A) II. Kosova B) Çirmen C) Sırpındığı
D) I. Kosova E) Sazlıdere

4.

	Hükümdarlar	Gelişmeler ve Olaylar
I.	Orhan Bey	Anadolu'da Türk siyasi birliğini sağlama çalışmalarının başlaması
II.	I. Murat	İlk Osmanlı Haçlı Savaşlarının başlaması
III.	I. Mehmet	Venedik ile Osmanlı arasında ilk deniz savaşının yapılması
IV.	II. Murat	Osmanlı egemenliğinin Balkanlar'da kesinlik kazanması
V.	I. Bayezit	Anadolu'da Türk siyasi birliğinin kesin olarak sağlanması

Yukarıdaki eşleştirmelerden hangisi yanlıştır?

- A) III B) I C) II D) IV E) V

5. Sırpındığı Savaşı Osmanlıların Haçlılarla yaptığı ilk savaştır. Bu savaştan sonra Bulgaristan, Osmanlı Devleti'ne vergi vermeyi kabul etmiştir.

Buna göre Osmanlı Devleti ile ilgili aşağıdakilerden hangisi söylenebilir?

- A) Ekonomik kazanç sağlamıştır.
B) Balkanlardaki mezhep savaşlarında taraf olmuştur.
C) İskân politikası uygulanmıştır.
D) Halka dinî hoşgörü tanımıştır.
E) Devletin kurumsallaşması tamamlanmıştır.

6.



Osman Gazi
Dönemi
Bakır para



Orhan Gazi
Dönemi
Gümüş para



Fatih Sultan
Mehmet Dönemi
Altın para

Osmanlı Devleti'ne ait bu paraları dönemleriyle anlatan Merve Öğretmen, konuyla ilgili aşağıdaki çıkarımlardan hangisini yaparsa Osmanlı Devleti'nin gelişimini doğru anlatmış olur?

- A) Devlet imparatorluk özelliği kazanmıştır.
B) Ekonomi güçlenmiş hazine gelirleri artmıştır.
C) Batıda sınırlar genişlemiştir.
D) Merkezî otorite güçlenmiştir.
E) Defterdarın Divandaki önemi artmıştır.



7. Osmanlı Beyliği batıda Bizans sınırına yakın coğrafyada kurulmuştur.

Buna göre kurulduğu coğrafyanın Osmanlı Beyliği'ne sağladığı en önemli kazanç aşağıdakilerden hangisi olmuştur?

- A) Osmanlıya karşı haçlı seferlerinin düzenlenmesi
B) Anadolu Beylikleri'nin desteğinin alınması
C) İskân politikasını uygulaması
D) Sınırlarını kısa zamanda genişletmesi
E) Tımar sisteminin uygulanması

8. II. Murat döneminde Haçlılarla yapılan II. Kosova Savaşı'nın kazanılmasıyla Osmanlı Devleti'nin Balkanlardaki hakimiyeti kesinleşmiş Rumeli ve Bulgaristan'ın Türkleşmesine zemin hazırlanmıştır.

Bu gelişmenin;

- I. Osmanlı'nın saldırı konumuna geçmesi,
II. Türk-İslam imparatorluğunun kurulması,
III. İslamiyet'in yayılma alanının genişlemesi

sonuçlarından hangilerine ortam hazırladığı savunulabilir?

- A) Yalnız I B) Yalnız II C) I ve III
D) II ve III E) I, II ve III

9. Haçlılarla yapılan Niğbolu Savaşı'nın kazanılması sonucunda, Osmanlı Devleti'nin İslam bünyesindeki etkisi artmış; Abbasi Halifesi Yıldırım Bayezit'e Sultan-ı İklim-i Rum unvanını vermiştir.

Bu durum aşağıdakilerden hangisinin kanıtı olamaz?

- A) Osmanlıya karşı Hristiyan birliğinin kurulduğunun
B) Dinî liderliğin Yıldırım Bayezit'e geçtiğinin
C) Niğbolu Savaşı'nı Osmanlıların kazandığının
D) Osmanlı topraklarının tehdit altında olduğunun
E) Osmanlı Devleti'nin cihat anlayışıyla hareket ettiğinin

10. Osmanlı Devleti'ni Anadolu'da Türk siyasi birliğini sağlama konusunda en çok uğraştıran beylik aşağıdakilerden hangisidir?

- A) Karamanoğulları
B) Dulkadiroğulları
C) Karesioğulları
D) Germiyoğulları
E) Hamitoğulları

11. I. Bursa'da ilk saray inşa edilmiştir.
II. Divan teşkilatı kurulmuştur.
III. İlk düzenli ordu kurulmuştur.
IV. Karesioğulları Beyliği'nin toprakları ele geçirilmiştir.

Orhan Bey Dönemi'ne ait gelişmelerden hangileri devlet teşkilatlanması ile ilgili yapılan çalışmalar arasında yer alır?

- A) I ve II B) II ve III C) III ve IV
D) I, II ve III E) I, III ve IV

12. Ankara Savaşı'nın kaybedilmesinden sonra Osmanlı Devleti'nde şehzadeler arasında mücadelelerin yaşandığı Fetret Devri başlamıştır.

Buna göre aşağıdakilerden hangisi Fetret Devri'nin özellikleri arasında yer alır?

- A) Veraset sisteminde düzenleme yapılması
B) Anadolu'da Osmanlı hâkimiyetinin güçlenmesi
C) Devşirme sisteminin geliştirilmesi
D) Balkanlarda toprak kayıplarının yaşanmaması
E) Bizans'ın siyasi varlığına son verilmesi





1. Fatih Sultan Mehmet'in İstanbul'u fethettikten sonra Rum halka verdiği özgürlükleri duyan Papa, "Asıl fetih şimdi gerçekleşti." demiştir.

Papa'nın bu sözü,

- I. Osmanlının hoşgörü politikası uyguladığı,
- II. İstanbul'daki Osmanlı egemenliğinin kalıcı olduğu,
- III. Fatih'in Ortodoks halkın güvenini kazandığı

yargılarından hangilerini doğrulamaktadır?

- A) Yalnız I B) Yalnız II C) Yalnız III
D) I ve II E) I, II ve III

2.



Verilen haritaya göre Osmanlı Devleti ile ilgili aşağıdaki yargılardan hangisine ulaşamaz?

- A) Batı sınırları Belgrad'a dayanmıştır.
- B) Anadolu Türk siyasi birliği sağlanmıştır.
- C) Karadeniz Türk gölü haline gelmiştir.
- D) Arnavutluk kıyıları Osmanlı egemenliğindedir.
- E) Doğu-batı toprakları arasında bütünlük sağlanmıştır.

3. II. Bayezit döneminde ortaya çıkan;

- I. Cem Sultan Olayı,
- II. Şah Kulu İsyanı,
- III. Memlüklerle mücadele

gelişmelerden hangilerinin Osmanlı Devleti'nin batıya yönelik fetih hareketlerini yavaşlattığı söylenebilir?

- A) Yalnız I B) Yalnız II C) Yalnız III
D) I ve II E) I, II ve III

4. **Çandarlı Halil Paşa:**

"Batı Hristiyan âlemini tahrik etmek büyük tehlikelere yol açar. Uzlaşmaya gitmemiz gerekir."

Zaganuz Paşa:

"Batılı devletler birleşip bir ordu gönderseler de Osmanlı kuvvetleri onlardan üstündür. İtalya'dan herhangi bir yardım gelmeden şehir zaptolunabilir."

İstanbul'un fethi öncesinde Çandarlı Halil ve Zaganuz Paşaların bu görüşlerine bakarak aşağıdakilerden hangisi söylenebilir?

- A) Fatih Sultan Mehmet, fetih kararını devlet adamlarına bırakmıştır.
- B) Osmanlı devlet adamları fetih konusunda görüş ayrılıkları yaşamıştır.
- C) Vezirler arasında askerî mücadele yaşanmıştır.
- D) İstanbul'un fethi öncesi Osmanlı fetret devri yaşamıştır.
- E) Fatih Sultan Mehmet, fetih ile ilgili divan kararını uygulamıştır.

5.



Kanuni Sultan Süleyman dönemindeki Osmanlı sınırlarını gösteren haritaya göre aşağıdaki yargılardan hangisine ulaşamaz?

- A) Osmanlı Devleti Kuzey Afrika'nın büyük bölümüne egemen olmuştur.
- B) Batıdaki sınırlar Viyana'ya ulaşmıştır.
- C) Osmanlı Devleti üç kıtada hakimiyet kurmuştur.
- D) Akdeniz'in tamamında Osmanlı hakimiyeti sağlanmıştır.
- E) Osmanlı sınırları Arap Yarımadası'na doğru genişlemiştir.



6. Kırım Hanlığı'nın Osmanlı yönetimine bağlanmasının sonuçları arasında aşağıdakilerden hangisi yer almaz?

- A) İpek Yolu ticaretinin Osmanlıların eline geçmesi
- B) Cenevizlilerin Karadeniz'deki etkinliğine son verilmesi
- C) Kırım Hanı'nın savaş dönemlerinde Osmanlıya askerî yardım yapması
- D) Karadeniz'in Türk gölü hâline gelmesi
- E) Baharat Yolu'nun Osmanlı egemenliğine girmesi

7. Yavuz Sultan Selim'in İslam dünyasının dinî lideri olduğunu;

- I. Mısır'ın fethi,
- II. Çaldıran Savaşı,
- III. halifeliğin Osmanlı'ya geçmesi

gelişmelerinden hangilerinin kanıtı olduğu söylenebilir?

- A) Yalnız I
- B) Yalnız II
- C) Yalnız III
- D) I ve II
- E) I, II ve III

8. Aşağıdakilerden hangisi Fatih'in İstanbul'un fethinden sonra izlediği politikalardan biri değildir?

- A) Ortodoks Kilisesi'nin haklarını korumak
- B) Hristiyanların birleşmesini önlemek
- C) İstanbul'un fethinin Avrupa'da yarattığı tepkiyi azaltmak
- D) Galata'daki Cenevizlilere ve Galata halkına din ve ticaret özgürlüğü vermek
- E) Avrupa'dan gelebilecek saldırıları önlemek için kapı-kulu ordusunu kurmak

9. Fatih Sultan Mehmet, İstanbul'u bir bilim ve kültür merkezî hâline getirmek için aşağıdaki önlemlerden hangisini almıştır?

- A) Yerli ve yabancı bilgileri İstanbul'a getirmek
- B) Ortodoksların haklarına dokunmamak
- C) Balkanlardaki fetihlere ağırlık vermek
- D) Ermenilere ayrı bir patriklik kurdurmak
- E) Ege adalarına Türk nüfusu yerleştirmek

10. Aşağıdakilerden hangisi II. Mehmet (Fatih) devrinde Anadolu'da gerçekleştirilen fetihlerden biri değildir?

- A) Cenevizlilerden Amasra'nın alınması
- B) Baharat Yolu'nun Osmanlı kontrolüne girmesi
- C) Karamanoğullarından Konya'nın alınması
- D) Candaroğullarından Sinop'un alınması
- E) Otlukbeli Savaşı ile Doğu Anadolu'ya egemen olunması

11. Osmanlıların XV ve XVI. yüzyıllarda güçlü devletlere karşı başarılı olabilmelerinin en önemli nedeni aşağıdakilerden hangisidir?

- A) Göçebe bozkır siyasal düzeni sürdürmeleri
- B) Hristiyan devletlerle savaşmaları
- C) Ateşli silahlarda gelişmiş bir teknolojiye sahip olmaları
- D) Savaş taktiklerinin üstünlüğü
- E) Düzenli ve kuvvetli bir ordu teşkilatı kurmaları

12. 1533'te Osmanlı Devleti ile Avusturya arasında imzalanan İstanbul Antlaşması ile protokolde Avusturya arşidükü Osmanlı sadrazamına denk sayılacaktır.

Buna göre aşağıdakilerden hangisine ulaşılabilir?

- A) Osmanlı ve Avusturya arasındaki ilişkiler müteakibi- yet esasına dayanır.
- B) Osmanlı sınırlarını batı yönünde genişletmiştir.
- C) Osmanlı sadrazamının yetki alanı ve otoritesi artmıştır.
- D) Osmanlı Devleti, Avusturya'ya siyasi üstünlüğünü kabul ettirmiştir.
- E) Osmanlı-Avusturya savaşları sona ermiştir.

- ◆ Evliya Çelebi
- ◆ Katip Çelebi
- ◆ Nabi
- ◆ Hazarfen Ahmet Çelebi
- ◆ Naima
- ◆ Legari Ahmet Çelebi
- ◆ Nef'i
- ◆ İtri
- ◆ Karacaođlan

- ◆ **Başkent**
- ◆ II. Osman'ın öldürülmesi
- ◆ Vaka-i Vakvakiye

- ◆ **Celali**
- ◆ Deli Hasan
- ◆ Karayazıcı
- ◆ Canbolatođlu
- ◆ Tավil Ahmet

- ◆ **Eyalet**
- ◆ Yemen
- ◆ Bađdat
- ◆ Halep
- ◆ Bogdan
- ◆ Kırım

- ◆ I. Ahmet
- ◆ Kuyucu Murat Paşa
- ◆ II. Osman
- ◆ IV. Murat
- ◆ Tarhuncu Ahmet Paşa
- ◆ Köprülü Mehmet Paşa

XVII. YY. DA OSMANLI DEVLETİ (1579-1699)

Ayaklanmaları

Önemli İshahat Çalışmaları

- ◆ Ekber ve Erşed kuralı
- ◆ Kafes usulü
- ◆ İlk denk bütçe
- ◆ Koçi Bey Risalesi

Duraklama Nedenleri

- ◆ İç nedenler
- ◆ Dış nedenler

Padişahları ve Savaşları

III. Murat

- ◆ İran Savaşları (Ferhat Paşa Antlaşması)

I. Ahmet

- ◆ İran Savaşları (Nasuh Paşa Antlaşması)

II. Osman

- ◆ Hotin Savaşı (Hotin Antlaşması)

II. Mustafa

- ◆ Kutsal İttifak Savaşları (Karlofça Antlaşması, İstanbul Antlaşması)

II. Süleyman

- ◆ Kutsal İttifak Savaşları

III. Mehmet

- ◆ Haçova Savaşı (Zitvatorok Antlaşması)

I. Mustafa

- ◆ İran Savaşları (Serav Antlaşması)

IV. Murat

- ◆ Revan ve Bađdat Seferleri (Kasrı-Şirin Antlaşması)

IV. Mehmet

- ◆ Osmanlı-Venedik Savaşı (Bahçesaray Antlaşması)
- ◆ Osmanlı-Avusturya Savaşı (Vasvar Antlaşması)
- ◆ Osmanlı-Lehistan Savaşı (Bucaş Antlaşması)
- ◆ II. Viyana Kuşatılması (Kutsal İttifak'ın kurulması)

II. Ahmet

- ◆ Kutsal İttifak Savaşları

YENİ ÇAĞ'DA AVRUPA

Rönesans ve Reform Hareketleri

Skolostik Düşüncenin Yıkılması

Aydınlanma Çağı

Ekonomik, Sosyal ve Bilimsel Sonuçları

- ◆ Akıl, deney ve gözlem yöntemi ön plana çıktı.
- ◆ Bilim ve teknoloji gelişti.
- ◆ Sanayi Devrimi yaşandı.

Siyasi Sonuçları

- ◆ Özgürük, eşitlik, milliyetçilik ve insan hakları kavramları ön plana çıktı.
- ◆ Amerikalıların, İngilizlere karşı başlattıkları özgürük ve eşitlik mücadelesi sonucu ABD kuruldu.
- ◆ Fransızların, krallarına karşı başlattıkları özgürük ve eşitlik mücadelesi sonucu Fransız İhtilali gerçekleşti.
- ◆ Fransız İhtilalinden sonra özgürük ve laiklik kavramları ön plana çıktı.

YAKIN ÇAĞ'DA AVRUPA

SANAYİ İNKILABI

Büyük sanayi kentlerinin ortaya çıkması

İşçi sınıfının ortaya çıkması

- ◆ Sendikalar hakları ve sosyalizm düşüncesinin güçlenmesi

Sömürgeciliğin yaygınlaşması

- ◆ Bloklaşmanın yaşanması
- ◆ Yedi Yıl Savaşları
- ◆ I. Dünya Savaşı

FRANSIZ İHTİLALI

Monarşik rejimlerin yıkılıp demokratik rejimlerin yaygınlaşması

Çok uluslu devletlerin parçalanması, dağılık haldeki ulusların birleşmesi

- ◆ Ulus-devlet anlayışının yaygınlaşması ve ulusal çıkarların önem kazanması
- ◆ Alman ve İtalyan siyasi birliklerinin kurulması

Viyana Kongresi

1830 ve 1848 İhtilalleri






1. Reform Hareketleri sonucunda 1555'te Augsburg (Ogsburg) Din Barışı imzalanmış, Protestanlık mezhebi ve Kilisesi Almanya'da resmen tanınmıştır. Ayrıca Almanya'daki prenslere mezhep seçme özgürlüğü tanınmıştır.

Buna göre aşağıdaki yargılardan hangisine ulaşamaz?

- A) Katolik mezhebinde ayrılmalar olmuştur.
B) Reform Hareketleri Avrupa'ya yayılmıştır.
C) Alman prenslerine dinî özgürlük tanınmıştır.
D) Din savaşları antlaşma ile sonuçlanmıştır.
E) Hristiyanlığın yeni bir mezhebi ortaya çıkmıştır.

2.



Avrupa tarihinde ortaya çıkan bu gelişmeler dikkate alındığında kronolojik doğru bir sıralamada boş bırakılan yere aşağıdakilerden hangisi yazılmalıdır?

- A) Otuz Yıl Savaşları
B) Aydınlanma Çağı
C) Fransız İhtilali
D) Sanayi Devrimi
E) Rönesans Hareketleri

3. Otuz Yıl Savaşları'nda Fransa Katolik olmasına rağmen Protestan gruba destek vermiş, Kutsal Roma Germen ve İspanya'ya karşı mücadele etmiştir.

Bu durum Otuz Yıl Savaşları'nın;

- I. siyasi amaçlar taşıdığı,
II. mezhep birliğini sağladığı,
III. krallıkları güçlendirdiği

özelliklerinden hangilerine sahip olduğunu gösterir?

- A) Yalnız I B) Yalnız II C) Yalnız III
D) I ve II E) I, II ve III

4. Fransız İhtilali sonucunda eşitlik, özgürlük, ulusçuluk, ulusal egemenlik, laiklik ve adalet gibi kavramlar Avrupa'ya yayılmıştır.

Bu durumun aşağıdaki sonuçlardan hangisini ortaya çıkardığı söylenebilir?

- A) Avrupa'da din savaşları başlamıştır.
B) Merkezî krallıklar güçlenmiştir.
C) Çok uluslu devletlerde ayaklanmalar çıkmıştır.
D) İngiltere'de parlamento açılmıştır.
E) Amerika Birleşik Devletleri kurulmuştur.

5.



Verilen haritada Napolyon'un düzenlediği seferlerle ilgili aşağıdakilerden hangisi söylemez?

- A) Osmanlı topraklarını tehdit etmiştir.
B) Avrupa'da yayılmacı bir politika izlemiştir.
C) Rusya'ya sefer düzenlemiştir.
D) Waterloo Savaşı'nda yenilgi almıştır.
E) Akka Kalesi'ne ulaşmıştır.

6. 1830 ve 1848 ihtilallerinin ortaya çıkmasında;

- I. liberaller,
II. işçi sınıfı,
III. aristokratlar

gibi toplumsal gruplardan hangilerinin etkili olduğu söylenebilir?

- A) Yalnız I B) Yalnız II C) Yalnız III
D) I ve II E) I, II ve III



7. Sanayi Devrimi'nin aşağıdaki sonuçlarından hangisi XX. yy.da ortaya çıkan devletler arası mücadeleye neden olmuştur?

- A) İşçi sınıfının oluşması
- B) Köyden kente göçlerin yaşanması
- C) Ham madde ve pazar ihtiyacının artması
- D) Tıptaki gelişmelerle nüfus artışının sağlanması
- E) Bankacılık ve ticaretin gelişmesi

8. 1815' te toplanan Viyana Kongresi'nde toplumların ırk, din ve dil farklılıkları dikkate alınmadan Avrupa sınırları yeniden çizilmiştir. Ayrıca milliyetçi ve demokratik akımlara karşı ittifak kurulmuştur.

Buna göre Viyana Kongresi'nde alınan kararların aşağıdaki gelişmelerden hangisinin sonuçlarına tepki olduğu söylenebilir?

- A) Fransız İhtilali
- B) Sanayi Devrimi
- C) 1830 İhtilali
- D) 1848 İhtilali
- E) Westphalia Antlaşması

9. Sermaye İş gücü Pazar Kapitalizm
I. II. III. IV.

Sanayi Devrimi ile ilgili araştırma yapan bir tarihinin numaralanmış kavramlardan hangilerini araştırmasında kullanması beklenebilir?

- A) I ve II
- B) Yalnız III
- C) I, II ve III
- D) III ve IV
- E) I, II, III ve IV

10. Sanayi İnkılabı'nın İngiltere'de başlamasının aşağıdakilerden hangisiyle ilişkili olduğu söylenemez?

- A) Siyasi oluşumunu tamamlamış olması
- B) Denizcilik faaliyetleri sayesinde sermayesinin güçlü olması
- C) Taşkömürü ve demir rezervlerinin olması
- D) Ulaşım ağının güçlü olması
- E) Mutlak monarşi ile yönetilmesi

11. • Fransa'da cumhuriyet ilan edilmiştir.
• İşçi sınıfı güçlenmiştir.
• Ekonomide ve siyasette sosyal liberalizm ön plana çıkmıştır

Verilen gelişmeler Avrupa'da ortaya çıkan aşağıdaki olaylardan hangisinin sonuçlarıdır?

- A) Rönesans Hareketleri
- B) Reform Hareketleri
- C) 1848 İhtilali
- D) Sanayi İnkılabı
- E) Fransız İhtilali

12. Fransız İhtilali'nin evrensel özellikler taşımasında;

- I. Fransa'da ortaya çıkması,
- II. özgürlük, eşitlik, demokrasi gibi kavramları yayması,
- III. milliyetçilik akımının doğmasına neden olması

özelliklerinden hangilerinin etkili olduğu söylenebilir?

- A) Yalnız I
- B) Yalnız II
- C) Yalnız III
- D) I ve II
- E) II ve III



11. Osmanlı Devleti'nde Orhan Gazi döneminde ilk düzenli ordu birlikleri olan Yaya ve Müsellem kuvvetleri oluşturulmuş, I. Murat döneminde ise devşirme usulüne dayalı olan Kapıkulu Ocakları kurulmuştur.

Osmanlı askerî yapısının gelişmesinde;

- I. sınırların genişlemesi,
- II. asker ihtiyacının artması,
- III. fetih politikasının değişmesi

unsurlarından hangilerinin etkili olduğu söylenebilir?

- A) Yalnız I B) Yalnız II C) I ve II
D) II ve III E) I, II ve III

12. Osmanlı Devleti'nde savaş ve barışın yapılması, isyanların bastırılması ya da herhangi bir uygulamanın gerçekleştirilmesi için Şeyhülislam'dan fetva alınırdı.

Bu durum Osmanlı Devleti'nin aşağıdaki özelliklerinden hangisiyle ilgili olduğu söylenebilir?

- A) İmparatorluk olmasıyla
- B) Sınırlarının üç kıtaya yayılmasıyla
- C) Askerî yapısının güçlü olmasıyla
- D) Teokratik yapıya sahip olmasıyla
- E) Monarşi ile yönetilmesiyle

13. "Karlofça Antlaşması'yla Osmanlı Devleti masa başı diplomasisi ile tanışmış ayrıca bürokratik unsurlar askerî unsurlara göre daha fazla ön plana çıkmaya başlamıştır."

Ders kitabından Karlofça Antlaşması'nın sonuçlarını okuyup değerlendirme yapan Mehmet'in aşağıdakilerden hangisini söylemesi beklenemez?

- A) Osmanlı Devleti'nde reis'ül küttabın önemi artmıştır.
- B) Osmanlı Devleti, saldırılardan savunmaya geçmiştir.
- C) Osmanlı Devleti'nin dış politikasında değişiklik yaşanmıştır.
- D) Osmanlı Devleti, Karlofça Antlaşması'ndan sonra konjonktürel ittifaklar kurmuştur.
- E) Osmanlı Devleti, Avrupa'daki topraklarını kaybetmiştir.

14. Osmanlı Devleti'nde, III. Ahmet döneminde veraset sisteminde değişiklik olmuş, "ekber ve erşed sistemi" uygulamaya koyulmuştur.

Bu değişikliğin yaşanmasında;

- I. taht kavgaları,
- II. dış politikadaki başarısızlık,
- III. askerî yapıdaki bozulma

durumlarından hangilerinin etkili olduğu söylenebilir?

- A) Yalnız I B) Yalnız II C) Yalnız III
D) II ve III E) I, II ve III

- 15.



Tulumbacılar



İbrahim Müteferrika ve
Türk matbaası



III. Ahmet Çeşmesi

Osmanlı tarihi ile ilgili verilen görselleri bir başlık altında toplamak isteyen Meltem, aşağıdakilerden hangisini kullanabilir?

- A) Dağılıma ve çözülüş sürecinde Osmanlı
- B) Osmanlı Devleti'nde Batılılaşmanın Etkileri
- C) Geleneksel Osmanlı Kurumları
- D) Osmanlı Devleti'nde Demokratikleşme Hareketi
- E) Osmanlı Devleti'ndeki Askerî Yenilikler



16. Osmanlı Devleti ile Rusya arasında 1787’de başlayan savaşlarda Avusturya da Osmanlı Devleti’ne savaş ilan etmiş, bu durum iki cephede savaşan Osmanlının işini zorlaştırmıştır. 1792’de Rusya ile imzalanan Yaş Antlaşması ile Osmanlı Devleti Kırım’ın Rusya’ya ait olduğunu onaylamıştır.

Buna göre Osmanlı Devleti ile ilgili aşağıdakilerden hangisi söylenebilir?

- A) Avusturya ile ittifak yapmıştır.
- B) Rusya’ya askerî üstünlüğünü kabul ettirmiştir.
- C) Karadeniz hakimiyeti zayıflamıştır.
- D) Avrupa’daki siyasi üstünlüğünü yitirmiştir.
- E) İslam dünyasının dinî liderliğini kaybetmiştir.

17. Orta Asya’dan Anadolu’ya göç eden Türkler kültürel özelliklerini de taşımışlardır. Gelenler arasındaki çocuklar “çelik çomak”, “üç taş”, “beş taş” ve “bizden size kim düşe” gibi oyunları da beraberinde getirmiştir. “Aç kapıyı bezirgan başı” oyununun sözleri göç yollarındaki kervan-saraylardan kalan bir gelenektir.

Buna göre aşağıdaki yargılardan hangisine varılabilir?

- A) Anadolu’da yerleşik kültür zayıftır.
- B) Türkler Fars ve Arap kültüründen etkilenmiştir.
- C) Türklerin en önemli ekonomik faaliyeti ticarettir.
- D) Anadolu’da çok uluslu bir yapı vardır.
- E) Göç olgusu kültürün de taşınmasını sağlar.

18. “Bizden bir süvarinin önünde iken göremediğini o (Türk), arkasında iken görür. O bizden bir süvariye av, kendisini pars, süvariye geyik, kendisini av köpeği yerine koyar. Allah’a yemin olsun ki Türk eli kolu bağlı olarak bir kuyuya atılsa mutlaka bir çaresini bulup kurtulur.”


IX. yüzyılda yaşamış Arap düşünürü Câhiz’in bu sözleri Türklerle ilgili;

- I. askerî özelliklerinin gelişmiş olduğu,
- II. zorluklarla mücadele edebilecek yapıya olduğu,
- III. geniş bir alana yayıldıkları

yargılarından hangilerini doğrular?

- A) Yalnız I
- B) Yalnız II
- C) Yalnız III
- D) I ve II
- E) I, II ve III

19.



Sultan Abdülmecit tarafından 3 Kasım 1839’da Gülhane Parkı’nda okutulan Tanzimat Fermanı’nın orijinal metni Cumhurbaşkanlığı Millet Kütüphanesi’nde bulunmaktadır.

Tanzimat Fermanı’nın orijinal metninin incelenmesinde tarih bilimine;

- I. paleografya,
- II. arkeoloji,
- III. filoloji

bilim dallarından hangilerinin katkısı olduğu söylenebilir?

- A) Yalnız I
- B) Yalnız II
- C) I ve II
- D) I ve III
- E) I, II ve III

20.



Mısır Uygarlığı ile ilgili gazete haberini okuyan Pelin’in aşağıdakilerden hangisini söylemesi beklenemez?

- A) Mısır’da ölümden sonraki yaşama inanılmıştır.
- B) Mısır Uygarlığı, en eski medeniyetlerden biridir.
- C) Mısır Uygarlığı, çevre kültürlerden etkilenmemiştir.
- D) Mısır’da mimari gelişmiştir.
- E) Anadolu uygarlıkları ile Mısır arasında ticari ilişkiler görülmüştür.



1. **Amasya Genelgesi'nde yer alan "Milletin bağımsızlığını yine milletin azim ve kararı kurtaracaktır." maddesi aşağıdakilerden hangisini gerçekleştirmeye yöneliktir?**

- A) Ekonomik bağımsızlık elde etmeye
- B) İstanbul Hükûmeti ile ortak hareket etmeye
- C) Bütün cemiyetleri tek çatı altında toplamaya
- D) Ulusal egemenliği sağlamaya
- E) Düzenli orduyu harekete geçirmeye

2. **Amasya Genelgesi'nin aşağıdaki maddelerinden hangisi ile egemenliğin ulusa dayandırılacağı ilk kez belirtilmiştir?**

- A) Vatanın bütünlüğü ve milletin istiklali tehlikededir.
- B) İstanbul Hükûmeti üstüne düşen sorumluluğu yerine getirememektedir.
- C) Milletin bağımsızlığını yine milletin azim ve kararı kurtaracaktır.
- D) Milletin haklı sesini dünyaya duyurmak için millî bir heyetin varlığı şarttır.
- E) Askerî birlikler hiçbir şekilde dağıtılmayacaktır.

3. **Amasya Genelgesi'nde;**

- I. Alınan kararların gerçekleşmesi işleriyle ordunun ileri gelenleri ilgilenecek,
- II. Ordular kesinlikle dağıtılmayacak.

kararlarının alınmasının temel nedeni aşağıdakilerden hangisidir?

- A) TBMM'nin güvenlik içinde toplanması
- B) Anadolu halkının mal ve can güvenliğinin sağlanması
- C) Toplanacak Sivas Kongresi'nin güvenliğinin sağlanması
- D) Ermeni ayaklanmalarının bastırılması
- E) İstanbul Hükûmetinin desteğinin sağlanması

4. **Erzurum Kongresi'ne katılan delegelerin "Manda ve himaye kabul edilemez." fikrini kabul etmekle;**

- I. ulusal bağımsızlık,
- II. ülke bütünlüğü,
- III. ulusal egemenlik

kavramlarından hangilerini benimsedikleri söylenebilir?

- A) Yalnız I
- B) I ve II
- C) I ve III
- D) II ve III
- E) I, II ve III

5. **Erzurum Kongresi'nin aşağıdaki kararlarından hangisi ile yeni bir Türk Devleti'nin kurulacağı belirtilmiştir?**

- A) Ulusal sınırlar içinde vatan bir bütündür, bölünemez.
- B) Her türlü işgal ve müdahaleye karşı millet birlikte mücadele edecektir.
- C) Osmanlı Hükûmetinin dağılması hâlinde geçici bir hükûmet kurulacaktır.
- D) Manda ve himaye kabul edilemez.
- E) Hristiyan halka siyasi egemenliğimizi ve sosyal dengeyi bozacak ayrıcalıklar verilemez.

6. **"Saltanat ve hilafet makamının kurtarılması için ulusal güçleri etkin ulusal iradeyi hâkim kılmak esastır." maddesi kabul edilmiştir.**

Ulusal egemenlik anlayışına ters düşen bu tutumun temel nedeni aşağıdakilerden hangisidir?

- A) İşgallerin artma endişesi
- B) Padişahların otoritesinden yararlanma amacı
- C) Birlik ve beraberliği engelleme düşüncesi
- D) İslam ülkelerinden yardım sağlama isteği
- E) Saltanat ve hilafet yanlılarını Millî Mücadele'ye katma isteği



7. İtilaf Devletleri Sevr Antlaşması'nın imzalanmasından sonra padişahın "Damat Ferit'in görevden alınmasını ve Ankara'ya bir kurul yollanmasını" isteyerek İstanbul Hükümetini istifaya zorlamıştır.

İtilaf Devletleri'nin bu tutumu, aşağıdakilerden hangisine kanıt olarak gösterilebilir?

- A) İtilaf Devletleri'nin yeni arayışlara yöneldiğine
B) İstanbul Hükümetine duyulan güvenin arttığına
C) TBMM'nin siyasal alanda önem kaybettiğine
D) Sevr Antlaşması'nın yürürlüğe girdiğine
E) Yabancıların İstanbul'daki baskısının kalktığına
8. Havza Genelgesi'nde;
- I. Hükûmete telgraflar çekilerek işgaller protesto edilmeli,
II. Azınlıklara zarar verecek davranışlardan kaçınılmalı,
III. Halkın katılımını sağlayacak mitingler düzenlenmeli ve işgallere karşı çıkılmalıdır.

kararları alınmıştır.

Bu kararlardan hangileri İstanbul Hükümetinin işgalere karşı yeterli tepkiyi göstermediğini kanıtlar niteliktedir?

- A) Yalnız I
B) I ve II
C) I ve III
D) II ve III
E) I, II ve III
9. Mustafa Kemal Paşa Amasya Genelgesi'ni hazırlarken arkadaşları Kâzım Karabekir, Ali Fuat Cebesoy ve Rauf Orbay'ın imzalarına da yer vermiştir.

Buna göre Mustafa Kemal Paşa'nın Amasya Genelgesi'ni hazırlarken;

- I. Millî Mücadele'ye katılımı arttırmak,
II. İstanbul Hükümeti'nin tepkisini önlemek,
III. Millî Mücadele'yi daha etkin hâle getirmek
- düşüncelerinden hangilerini amaçladığı söylenemez?**

- A) Yalnız I
B) Yalnız II
C) I ve II
D) I ve III
E) II ve III

10. Mustafa Kemal, Millî Mücadele'yi başlatırken zaferden sonra Cumhuriyet'in ilan edileceğine karar vermiş ancak düşman yurttan atılincaya kadar bunu açıklamamıştır.

Bu durum dikkate alındığında;

- I. hızlı bir çağdaşlaşmaya girildiği,
II. ulusal bağımsızlığa öncelik verildiği,
III. güçler birliği ilkesinin benimsendiği

yargılarından hangilerine ulaşılamaz?

- A) Yalnız I
B) Yalnız II
C) Yalnız III
D) I ve III
E) II ve III

11. Amasya Genelgesi'nde yer alan aşağıdaki kararlardan hangisinin Millî Mücadele'nin yöntemini en iyi açıkladığı söylenebilir?

- A) Vatanın bütünlüğü tehlikededir.
B) İstanbul Hükümeti üzerine düşen görev ve sorumlulukları yerine getirememektedir.
C) Askerî ve ulusal direniş örgütleri hiçbir biçimde dağıtılmamalıdır.
D) Sivas'ta ulusal bir kongre toplanmalıdır.
E) Ulusun bağımsızlığını yine ulusun azim ve kararı kurtaracaktır.

12. Kuvayimilliyeye;

- Düşman ilerleyişini yer yer yavaşlatmıştır.
- Ülkenin tümünün düşman işgaline uğramasını önlemiştir.

Bu bilgiler dikkate alındığında Kuvayimilliyeye ile ilgili,

- I. Ülke yönetiminden sorumludur.
II. Millî Mücadele hareketinin güç kazanmasına ortam hazırlamıştır.
III. Azınlıkların ayrı devlet kurmalarını hızlandırmıştır.

yargılarından hangileri savunulamaz?

- A) Yalnız I
B) Yalnız II
C) I ve II
D) I ve III
E) II ve III